



- هر ساعت زمانی از بعدازظهر را نشان می دهد. زمان نمایش داده شده را بنویس.



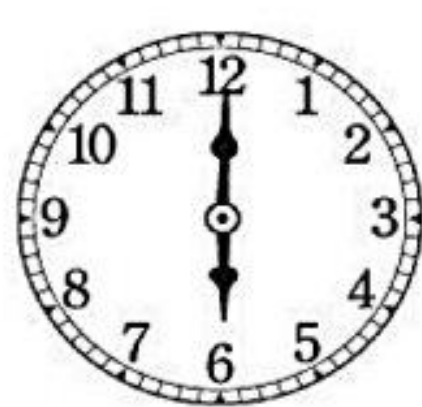
.....



.....




.....



.....




.....




.....


- زمان های خواسته شده را با کشیدن عقربه ها نشان بده.




۱۷:۴۵




۱۱:۱۰



۲۲:۳۰



۱۶:۴۰



۱۳:۱۵

- مریم هر روز صبح ساعت ۸ صبح تا ۱ بعدازظهر در آموزشگاه کار می کند. او بعد از ۴ روز، چند ساعت در آموزشگاه

کار کرده است؟



- قطاری ساعت ۶ صبح از تهران به طرف یزد حرکت کرد و ۱۴ ساعت بعد به یزد رسید. این قطار چه ساعتی به یزد

رسیده است؟

ساعت ۲۲

ساعت ۲۰

ساعت ۲۱

ساعت ۱۹

- حالا که عالی تمرینات را انجام دادی، یک مسئله همانند مسائل بالا طرح کن و زمان خواسته شده را نشان بده.

